

专项二 认识图形与人民币

时间：60 分钟 满分：110 分

题号	一	二	三	四	五	六	七	八	附加题	总分
得分										

kuài lè tián yì tián

一、快乐填一填。(每空 1 分,共 9 分)

1.





_____ 元 _____ 角 _____ 分

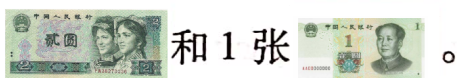


_____ 元 _____ 角

2. 1 张  可以换 () 张 , 也可以换 () 张 , 1 张  可以换 () 张



3. 将  兑换成零钱,可兑换 3 张 、() 张



bǐ yì bǐ

二、比一比。(10 分)

1. 在 ○ 里填上“>”“<”或“=”。(6 分)

5 角 ○ 50 分 45 角 ○ 4 元 8 角 19 元 9 角 ○ 20 元

9 元 ○ 70 角 + 100 分 3 角 6 分 ○ 36 分 51 元 8 角 ○ 58 角

2. 给下面的钱数排队。(4分)

20元 19元8角 18元9角 20元9角

_____ > _____ > _____ > _____

jīng tiāo xì xuǎn wǒ zuì bàng

三、精挑细选我最棒。(将正确答案的序号填在括号里)(14分)

1. 用()个  可拼成1个 .

A. 1

B. 2

C. 3

D. 4

2. 优优有3个1元、4个2角和5个2分钱,他想买2个4角钱的练习本后再买1个3元钱的文具盒。他的钱()。

A. 够

B. 不够



3. 如果贝贝在佳佳的左面,美美在贝贝的左面,并且三人站成一排,那么美美在佳佳的()面。

A. 前

B. 后

C. 左

D. 右

4. 拼一个  要用4根同样长的小棒,如果拼4个 ,至少要用()根同样长的小棒。

A. 10

B. 12

C. 14

D. 16

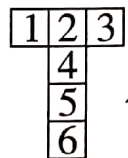

5. 至少需要()个  可以拼成一个大正方体。

A. 2

B. 4

C. 8

D. 9

6.  用左图做成一个 , 数字“1”的对面是(), 数字“6”的

对面是()。

A. 2

B. 3

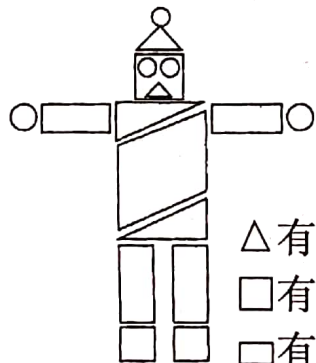
C. 4

D. 5

shǔ yì shǔ tián yì tián

四、数一数,填一填。(10分)

1.



△有()个


□有()个

□有()个

□有()个

○有()个

2.



△有()个

□有()个

□有()个


□有()个

○有()个

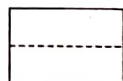
dòng shǒu cāo zuò tí

五、动手操作题。(20分)

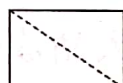
1. 请你在下面的钉子上画一个三角形、一个正方形、一个长方形和一个平行四边形。(12分)



2. (8分)



沿虚线折出了()个()形。



沿虚线折出了()个()形。



沿虚线折出了()个()形。



沿虚线折出了()个()形。

nǐ néng bāng zhè liǎng wèi xiǎo péng yǒu bǎ tā men mǎi yī fu de qián

六、你能帮这两位小朋友把他们买衣服的钱

quān chū lái ma

圈出来吗?(10分)




1. 我想买③号上衣和⑤号裤子。

2. 我想买②号上衣。



wǒ gěi huǒ chē huà huà zhuāng

七、我给火车化化妆。(12分)



□涂黄色

□涂蓝色

△涂红色

○涂绿色


八、周末去超市。(15分)



60.00元



25.50元



30.20元



14.80元


1. 写一写。(8分)



()元()角



()元()角



()元()角




()元()角


2. 算一算。(4分)



()元()角



()元()角

3. 买一辆  你会怎样付钱? 在下面写一写。(3分)





附加题 (共10分)



帮我算一算!



1. 用 10 元钱正好可以买一个  和一把 , 一把  () 钱。

2. 小丽要买一盒 , 付了 5 张 10 元, 找回的钱比 5 元少, 这盒  的价钱可能是多少? 在合适的答案下面画“√”。

36 元	56 元	46 元

3. 请你再提出一个问题, 并解答。

专项二 认识图形与人民币

一、1. 51元1角7分 71元6角

2. 2 5 2 3. 2

二、1. = < < > = >

2. 20元9角 > 20元 > 19元8角 > 18元9角

三、1. D 2. A 3. C

4. B 5. C 6. B C

四、1. 4 3 4 1 5 2. 5 3 3 0 5

五、1. 略 2. 2 长方 2 三角 4 正方

4 三角

六、略

七、略

八、1. 60元0角 25元5角 30元2角

14元8角

2. 85元5角 45元0角

3. 略，答案不唯一

附加题：1. 8角 2. 46元 (✓)

3. 笔记本比铅笔贵多少钱？

1元3角 - 7角 = 6角 (答案不唯一)